

◎ 指示があるまで開かないこと。

(平成 24 年 2 月 17 日 10 時 45 分 ~ 12 時 00 分)

注 意 事 項

1. 試験問題の数は 55 問で解答時間は正味 1 時間 15 分である。
2. 解答方法は次のとおりである。

各問題には 1 から 4 までの 4 つの選択肢、もしくは 1 から 5 までの 5 つの選択肢があるので、そのうち質問に適した選択肢を(例 1)、(例 2)では 1 つ、(例 3)では 2 つ選び答案用紙に記入すること。

なお、(例 1)、(例 2)の質問には 2 つ以上解答した場合は誤りとする。(例 3)の質問には 1 つ又は 3 つ以上解答した場合は誤りとする。

(例 1)

101 保健師助産師看護師法で、保健師を定義しているのはどれか。

1. 第 1 条
2. 第 2 条
3. 第 3 条
4. 第 4 条

正解は「2」であるから答案用紙の②をマークすればよい。

答案用紙①の場合、

101	①	②	③	④
		↓		
101	①	●	③	④

答案用紙②の場合、

101	101
①	①
②	●
③	③
④	④

(例2)

102 保健師国家試験の受験資格が規定されているのはどれか。

1. 医療法
2. 学校教育法
3. 地域保健法
4. 保健師助産師看護師法
5. 看護師等の人材確保の促進に関する法律

正解は「4」であるから答案用紙の④をマークすればよい。

答案用紙①の場合、					答案用紙②の場合、					
102	①	②	③	④	⑤	102	102			
			↓			①	①			
102	①	②	③	●	⑤	②	②			
						③	→	③		
						④		●		
						⑤		⑤		

(例3)

103 保健師籍に登録されるのはどれか。2つ選べ。

1. 生年月日
2. 受験年月日
3. 卒業年月日
4. 就業年月日
5. 登録年月日

正解は「1」と「5」であるから答案用紙の①と⑤をマークすればよい。

答案用紙①の場合、					答案用紙②の場合、					
103	①	②	③	④	⑤	103	103			
			↓			①	●			
103	●	②	③	④	●	②	②			
						③	→	③		
						④		④		
						⑤		●		

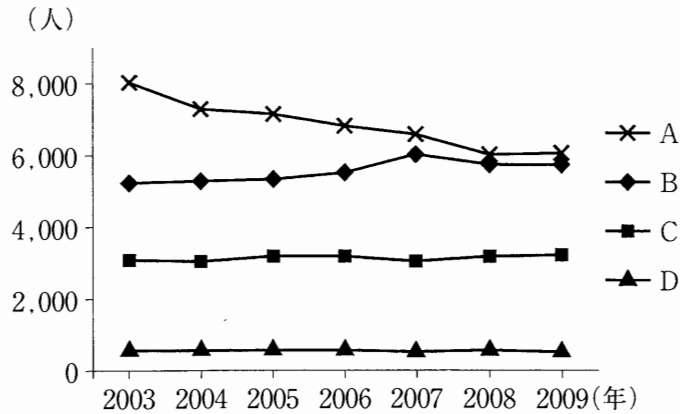
1 オタワ憲章でのヘルスプロモーションの活動方針で正しいのはどれか。

1. 適正技術の導入
2. 医療サービスの組織化
3. 健康を支援する環境づくり
4. 地域で入手可能な資源の優先利用

2 保健行動のうち病者役割行動はどれか。

1. 肺癌が心配なので禁煙した。
2. 喀痰が多いので医療機関を受診した。
3. 糖尿病と肥満とを指摘されたので減量した。
4. 自動車に乗るときは必ずシートベルトをする。

3 日本における年代別(10歳代、20歳代、50歳代、70歳以上)自殺者数の推移を図に示す。



Aの年代への自殺予防対策はどれか。

1. 新入社員への相談支援
2. 学校で行う「いのちの授業」
3. 中間管理職へのメンタルヘルス相談
4. 民生委員へのゲートキーパー養成講座

4 保健師が行う家庭訪問の対象で優先度が高いのはどれか。

1. 特定健康診査の結果で積極的支援となった50歳の女性
2. 市の子宮がん検診を1度も受けたことのない25歳の女性
3. 禁煙教室に参加し、修了1か月後に再喫煙をした35歳の男性
4. 市の胃がん検診で要精密検査となったが、未受診の40歳の男性

5 生後7か月ころの離乳食の指導内容として正しいのはどれか。

1. 1日3回食とする。
2. 赤身の魚で鉄分を補う。
3. 離乳食を食べた後は授乳しない。
4. 上顎と舌でつぶせる固さにする。

6 市の幼児食事状況調査の結果、間食が多いことが分かった。保健推進員グループは、地区で食育に取り組むことを目標に第1回の話し合いを開催した。保健師はアドバイザーとして話し合いに参加した。話し合いの中でグループのリーダーが「具体的にどう活動していいか分からない」と発言をした。

保健師の関わり方で最も適切なのはどれか。

1. 今後の活動計画を保健師が作成する。
2. リーダーを他の人に代えるように提案する。
3. 先進的な取り組み事例について情報提供する。
4. 話し合い終了後にリーダーに会の進め方の問題を指摘する。

7 市では50歳代の大腸がん検診(便潜血検査2日法)の受診率向上に向けた取り組みを行うこととした。平成21年度の大腸がん検診受診率は17%で、過去3年間の受診率は低下傾向にある。50歳代の大腸がん検診未受診者100人の理由を表に示す。

順位	理由
1位(45人)	検査施設まで行くのが面倒だから
2位(25人)	がんが発見されたら怖いから
3位(20人)	自分にはがんにはならないと思うから
4位(10人)	大腸がん検診を知らなかったから

受診率向上に向けた対策として最も適切なのはどれか。

1. 検診キットを希望者に郵送する。
2. 保健推進員が未受診者の個別訪問を行う。
3. 市役所内に大腸がん検診のポスターを貼る。
4. 幼稚園の保護者会で大腸がん検診の日時のお知らせを配布する。

8 精神障害者が社会復帰のために定期的に通い、創作的活動を行う施設として適切なものはどれか。

1. グループホーム
2. 地域産業保健センター
3. 精神保健福祉センター
4. 地域活動支援センター

9 国際生活機能分類(ICF)に関する説明で適切なのはどれか。

1. 病気、変調、傷害に関する分類である。
2. 背景因子は「個人因子」と「環境因子」である。
3. 国際障害者年が契機となって国際的に広く定着した。
4. 参加制約とは、個人が活動を行うときに生じる難しさをいう。

10 難病対策として取り上げるべき疾患の範囲の考え方について難病対策要綱の記載に含まれているのはどれか。

1. 患者数が多い。
2. 致命率が高い。
3. 進行が急速である。
4. 治療方法が確立していない。

11 15歳の男子。A高校1年生。両親と祖母と4人で暮らしている。サッカー部に所属している。夏休み中に1週間行われた宿泊合宿時から咳があり、2学期開始前の8月下旬に自宅近くの医療機関で肺結核と診断され、保健所に届出があった。診断時の喀痰塗抹検査は陽性であり、入院治療が開始された。

接触者健康診断の対象者で、同居家族の次に優先順位が高いのはどれか。

1. A高校の教職員
2. サッカー部の部員
3. 合宿した宿舍の職員
4. A高校の生徒のうちの受診希望者

12 ライフステージと歯科保健対策の組合せで正しいのはどれか。

1. 乳児期 ————— フッ素塗布
2. 幼児期 ————— 3歳児健康診査
3. 妊娠期 ————— 歯周疾患検診
4. 成人期(40～64歳) ——— 訪問口腔衛生指導

13 市では中高年の女性を対象として、運動習慣の定着のために「いきいき運動教室」を行った。

「いきいき運動教室」の結果評価のための指標で適切なのはどれか。

1. 教室の実施回数
2. 教室運営にかかる経費
3. 参加者の教室参加回数
4. 参加者の1週間当たりの運動回数

14 保健所では、管内の介護支援専門員を対象に、ネットワークづくりを目的として毎月1回定期的に2時間の会議を開催することとし、初回は情報交換を行った。

次回の会議の内容で優先度が高いのはどれか。

1. 対応が困難な事例の検討
2. 最新の認知症医療の講演会
3. 介護保険事業計画の策定に向けた検討
4. 管内の介護支援専門員の活動件数の報告

15 グループダイナミクスの効果が最も期待できるのはどれか。

1. 両親学級における新生児の沐浴演習
2. アルコホーリック・アノニマス(A.A)の集会
3. 飲食店主を対象とした食品由来感染症予防講演会
4. 発達障害児の通所プログラムに関する保護者へのオリエンテーション

16 肥満者を対象とした集団運動教室の修了時、参加者の男性から「教室が終わると、運動をしない生活に戻りそうで心配。今後もこの仲間が集まれば、運動を続けられるかもしれない」という相談があった。

自主グループ化を目指すための保健師の対応で最も適切なのはどれか。

1. 「会則を決める必要があります」
2. 「今後は自由に集まってください」
3. 「みんなで今後の話し合いをしましょう」
4. 「あなたが中心となって教室の継続開催をしましょう」

17 情報サービス業で従業員 800 人の企業。身長 190 cm の事務職の男性から「机と椅子のバランスが悪いので、窮屈でパソコンを打ちにくい、疲れる」と産業保健師に相談があった。企業では、AからDの順に対策を進めていった。

- A 男性が適切な姿勢で作業できるように机と椅子との調整を支援した。
- B 同様の問題が生じていないか、他の従業員から情報収集した。
- C 複数の従業員から同様の訴えがあったため、実態調査の必要性の根拠資料を作成した。
- D 全従業員を対象とした実態調査の実施を決定した。

産業保健師が実施できるのはどれか。

- 1. Aのみ
- 2. A、Bまで
- 3. A、B、Cまで
- 4. A、B、C、Dすべて

18 高齢者のケアマネジメントに関する説明で正しいのはどれか。

- 1. 介護支援専門員の独占業務である。
- 2. 医療保険による訪問看護は対象としない。
- 3. 利用者のニーズを適切なサービスに結び付ける援助機能である。
- 4. 介護保険の予防給付の場合、指定居宅介護事業所の介護支援専門員が行う。

19 災害時に備えて保健所保健師が行う災害時要援護者のリストアップで優先度が高い対象者はどれか。

1. 入院中の精神疾患患者
2. 介護保険で要支援と認定された者
3. 低出生体重児を養育している母親
4. 在宅で人工呼吸器を装着している難病患者

20 日本の平成19年度の一般診療医療費の入院外のうち、65歳以上の医療費が最大の疾病はどれか。

1. 糖尿病
2. 脳血管疾患
3. 悪性新生物
4. 高血圧性疾患

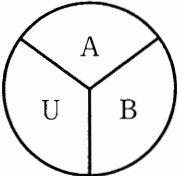
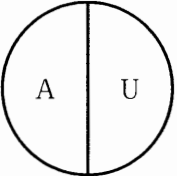
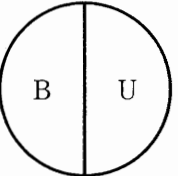
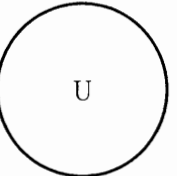
21 学校保健活動について正しいのはどれか。

1. 学校における保健管理の対象に職員は含まれない。
2. 薬物乱用防止に関する指導は中学生から開始される。
3. 学校給食法の目的に学校における食育の推進が含まれる。
4. 学校における保健教育は学校保健安全法に基づいた教育活動である。

22 市町村に策定の義務がないのはどれか。

1. 医療計画
2. 地域福祉計画
3. 介護保険事業計画
4. 次世代育成支援行動計画

23 ある疾患の原因 A・B・U の状況を表に示す。A、B は既知の原因、U はその他の未知の原因である。A・B・U の原因が重なって十分条件を満たすことになり罹患した「パターン 1」の患者が全患者の 30%、同様に A・U の原因が重なって罹患した「パターン 2」の患者が 40%、B・U の原因が重なって罹患した「パターン 3」の患者が 20%、U の原因で罹患した「パターン 4」の患者が 10% であった。

パターン分類	パターン 1	パターン 2	パターン 3	パターン 4
				
患者の割合	30%	40%	20%	10%

A の原因を完全に除去できたと仮定すると、この疾患の罹患を減らすことができる割合はどれか。

1. 30%
2. 40%
3. 70%
4. 100%

24 基準集団とA市との年齢階級別人口と死亡数とを表に示す。

(人)

年齢階級	基準集団		A 市	
	年齢階級別人口	死亡数	年齢階級別人口	死亡数
40歳未満	80,000	80	3,000	6
40～64歳	80,000	160	6,000	6
65歳以上	40,000	160	9,000	18
合 計	200,000	400	18,000	30

直接法によるA市の人口10万人当たりの年齢調整死亡率はどれか。

1. 160
2. 200
3. 320
4. 370

25 ある地域における喫煙者と非喫煙者とに分けた疾患の罹患率(人口10万人年対)について調査した結果を表に示す。

	肺 癌	咽頭癌	慢性閉塞性 肺疾患	虚血性心疾患
喫 煙 者	120	80	150	350
非喫煙者	30	20	70	180

喫煙による寄与危険が最も大きな疾患はどれか。

1. 肺 癌
2. 咽頭癌
3. 慢性閉塞性肺疾患
4. 虚血性心疾患

26 感染症のアウトブレイクで正しいのはどれか。

1. 国際的な流行をいう。
2. 国内常在感染症では起こらない。
3. 動物由来感染症では起こらない。
4. 通常ではほとんどない疾病の発症数が突然増加することをいう。

27 食中毒発生時の疫学調査で用いないのはどれか。

1. 生命表
2. 流行曲線
3. 症例の定義
4. マスターテーブル

28 単位が同じである統計値の組合せで正しいのはどれか。

1. 中央値 ———— 四分位偏差
2. 平均値 ———— 分散
3. 最頻値 ———— 変動係数
4. 分散 ———— 範囲

29 国勢調査について正しいのはどれか。

1. 住所の情報は含まない。
2. 調査は世帯ごとに実施する。
3. 層化無作為抽出法で地域を選定する。
4. 日本に居住する外国人は対象としない。

- 30 平成 20 年の患者調査の結果に関する記述で正しいのはどれか。
1. 入院受療率は、前回調査と比べて増加している。
 2. 傷病分類別外来受療率では、循環器系の疾患が最も多い。
 3. 年齢階級別外来受療率は、年齢が上がるとともに上昇する。
 4. 傷病分類別入院受療率では、精神及び行動の障害が最も多い。
- 31 文献検索を行い、その結果見つけた文献を引用しながら論文を書いた。
適切でないのはどれか。
1. 抄録で内容が確認できたため本文を読まずに引用した。
 2. 見つけた文献で使われていたキーワードで再検索した。
 3. 該当文献が多かったため原著論文に限定して再検索した。
 4. 出典を明示して著者の許可を得ずに文章の一部を引用した。
- 32 就業保健師数が最も多いのはどれか。
1. 病院・診療所
 2. 介護保険施設
 3. 事業所
 4. 保健所
 5. 市町村

33 学校保健統計について正しいのはどれか。

1. 2年に1回調査が行われる。
2. 悉皆調査によるものである。
3. 色覚は調査項目の1つである。
4. 幼稚園児から高校生までが対象である。
5. 学校医の配置状況は調査項目の1つである。

34 従業員数2,000人の事業場。この事業場では毎年5月に事業場内で定期健康診断を行っている。受診率は98%である。健康診断後の保健指導を充実させるために、次年度は5月から10月に分散して健康診断を行うこととした。

事業場の健康管理センターに勤務する保健師がこの変更の影響を次年度末に評価する際、保健指導実施率の他に適切な評価項目はどれか。

1. 有所見者率
2. 健康診断の受診率
3. 健康診断で仕事中に離席する時間
4. 事業場が企画する健康講演会への参加率
5. 自分の健診結果を理解している社員の割合

35 周産期医療センターにおいて、在胎 31 週 0 日、1,500 g で出生した男児。出生後、呼吸状態が安定せず、しばらく入院治療の継続が必要と説明されている。

この児に適用となるのはどれか。

1. 療育医療
2. 養育医療
3. 自立支援医療
4. 特定疾患治療研究費
5. 小児慢性特定疾患治療研究費

36 健康相談で、高血圧予防について知りたいという人に対する日常生活における保健指導内容で正しいのはどれか。2つ選べ。

1. 肥満を予防する。
2. 塩分は1日 12 g を目安にする。
3. 野菜は1日 150 g を目安にする。
4. ストレスをためないようにする。
5. アルコールは1日 60 g 程度とする。

37 市では地域包括支援センターで高齢者の生活機能評価を行った。二次予防対象者に対する介護予防事業の内容で適切なのはどれか。2つ選べ。

1. 禁煙指導
2. 栄養相談
3. 介護技術指導
4. 口腔機能向上の指導
5. 訪問リハビリテーション

38 医療計画で必要病床数を二次医療圏ごとに算定するのはどれか。2つ選べ。

1. 精神病床
2. 結核病床
3. 一般病床
4. 療養病床
5. 人工透析の病床

39 保健計画の策定で適切なのはどれか。2つ選べ。

1. 数値目標を設定する。
2. 他の行政計画と重複させない。
3. 計画の策定過程への住民参加を促す。
4. 評価計画は保健計画の策定後に検討する。
5. 計画の評価メンバーは保健師が任命する。

40 災害救助法で定められている救助はどれか。2つ選べ。

1. 医療及び助産
2. 消防団員の任命
3. 要援護者の把握
4. 生活再建支援金の支給
5. 収容施設(応急仮設住宅を含む)の供与

次の文を読み 41～43 の問いに答えよ。

人口5万人の市。高齢者担当の保健師は2名。市内には、市直営の地域包括支援センターが3か所、訪問看護ステーションと特別養護老人ホームとがそれぞれ1か所ある。市内の各地区には保健推進員がいる。3地区の市民センターでボランティア主催の地域高齢者の集いを毎月1回開催している。ボランティアから「集いの参加者の中で痩せてきたように感じる女性がいる。どうも食事をあまり食べていないようだし、衣服も不潔なことが多い」と保健師に相談があった。女性は86歳、長女と2人で暮らしている。6か月前に認知症と診断され、要介護1の認定を受けている。食事と排泄とに一部介助を要する。月1回の通院のために介護サービスを利用している。

41 ボランティアから相談を受けた保健師は、関係者と連携して家庭訪問をしようと考えた。

同行する関係者で優先度が高いのはどれか。

1. 保健推進員
2. ボランティア
3. 保健所保健師
4. 介護支援専門員

42 保健師は、2日後に家庭訪問をし、長女と面接した。面接を進めるうちに長女は保健師に、母親に厳しく育てられたこと、介護のつらさや疲労感について話し始めた。母親の食事については「食べ終わるのを待っていたら片付かないので、食べていなくても15分経ったらお膳を下げています」と話した。

長女の話の傾聴した後の対応で適切なのはどれか。2つ選べ。

1. 「厳しく育てられたことがお母さんに対するあなたの態度に出ていますね」
2. 「介護度の高い高齢者を抱える他の家族はもっと大変ですよ」
3. 「認知症高齢者の家族会に参加してみませんか」
4. 「高エネルギーの流動食に変えてみませんか」
5. 「デイサービスを利用してはどうでしょうか」

43 市では同様の事例が相次いだことから、高齢者虐待防止対策の見直しをすることにした。

見直す内容で優先度が高いのはどれか。

1. ネットワーク会議記録の保管方法
2. 医療機関との夜間・休日連絡方法
3. 高齢者虐待発見時の関係者間の連絡方法
4. 高齢者虐待についての市民への啓発方法

次の文を読み 44～46 の問いに答えよ。

人口 10 万人の市。出生数は年間 1,200 人。乳児の一時預かり事業や養育支援訪問事業は実施していない。Aさんは、出生時体重 2,500 g、2,600 gの双子を出産した。市保健センターの保健師が新生児訪問を行ったところ、Aさんは「赤ちゃんが泣く度に別々に授乳を行っていて、ほとんど睡眠時間がとれません」と語った。夫の仕事の関係で出産直前に転入し、近くに親戚はいない。

44 保健師の対応で最も適切なのはどれか。

1. 「母乳栄養で乗り切りましょう」
2. 「大変なのは今だけです。頑張りましょう」
3. 「子育て中の近所のお母さんを紹介しましょう」
4. 「2人の授乳時間を合わせる方法を一緒に考えましょう」

45 市では、過去 5 年間に毎年 6～8 例の多胎児の出生があり、その育児について「育児書には多胎の育児については書いてないから役に立たない。どうしていいか困ることばかり」とその大変さを語る人が多い。保健師は多胎児をもつ家族への対策が必要と考えた。

市保健センターが、まず取り組むこととして最も適切なのはどれか。

1. 要保護児童の把握
2. 多胎妊婦教室の開催
3. 療育指導事業の実施
4. 多胎児親子の交流会の開催

46 市保健センターの保健師は、多胎児を育児中の家族への支援をさらに充実させる必要があると考えた。

最初に情報共有を図るのはどれか。

1. 乳児院
2. 産科病院
3. 児童相談所
4. 市の児童福祉担当部署

次の文を読み 47～49 の問いに答えよ。

保健所は、人口 15 万人で高齢化率 22.3 % の A 市と人口 8 万人で高齢化率 25.3 % の B 市とを管轄している。管轄内の医療・介護のサービス事業者数は充足している。脳卒中患者の一般病床の在院日数が長いため医療連携体制の構築に取り組むことになった。

47 保健所が事務局となり、医師会と病院と合同で検討会を開催することとした。医療連携体制を強化する根拠となる法律はどれか。

1. 医療法
2. 地域保健法
3. 健康増進法
4. 介護保険法

48 検討会を経て、脳卒中リハビリテーション連絡協議会が開催された。この会で、急性期・回復期・在宅医療を担う医療機関相互の連携が不十分なために、退院後のリハビリテーションの中断や、自宅に閉じこもりがちになるといった問題が生じていることが共有された。

脳卒中リハビリテーション連絡協議会が検討すべき対策で適切なのはどれか。

1. 介護老人保健施設の誘致
2. 医療安全支援センターの設置
3. 地域連携クリニカルパスの導入
4. 生活習慣病の早期発見に関する啓発活動

49 保健所は医療サービスと介護サービスを含めた包括的な支援提供ができる仕組みづくりを検討することにした。保健師は、医療介護のサービス事業所に対する聞き取り調査を実施した。その結果、各事業所の実務者レベルの情報交換が必要だという意見が多かった。

保健師の対応として最も適切なのはどれか。

1. ボランティアの育成
2. 民生委員に対するヒアリング調査の実施
3. サービス事業者を対象とした事例検討会の企画
4. 脳卒中で介護保険を利用している者のリスト作成

次の文を読み 50～52 の問いに答えよ。

58歳の男性。15年間精神科病院に入院している。15年前「隣の家から攻撃される。自己防衛だ」と言い、家の前を通る人に石を投げる等の行動がみられたため、統合失調症と診断され、入院した。両親は死去し、兄弟はいない。自宅は残っている。親戚は音信不通である。薬物治療によって病状は安定しており、退院が予定された。退院準備のため、男性は病院ケースワーカーと自宅の様子を見に行った。

50 男性を見た近所の住民から「退院させないでほしい」と保健所保健師へ要望があった。

保健所保健師の対応で適切なのはどれか。

1. 近所の住民が要望した理由を聞く。
2. 近所の住民ひとりひとりを説得する。
3. 男性の病状安定の診断書の提出を主治医に求める。
4. 男性のことに关しては、病院に相談するよう住民に伝える。
5. 近所の住民の感情へ配慮し、男性に15年前の謝罪をするよう助言する。

51 保健所保健師が病院スタッフとともに男性と面接すると、男性は「入院生活が長かったので、地域の人にも受け入れてもらえないし、退院後1人で生活できるのか不安だ」と言う。男性は病院ケースワーカーや保健所保健師と相談し、退院後はグループホームに入居することとなった。

保健所保健師の男性への対応で優先すべきなのはどれか。

1. 精神科訪問看護の導入
2. 社会復帰調整官の紹介
3. 生活介護サービスの導入
4. 精神疾患患者の患者会の立ち上げ

52 この事例のように精神障害者に対する理解が不十分な地域における退院促進の対策として、保健所保健師が事業化するのに適切なのはどれか。

1. 日常生活用具給付事業
2. 精神保健福祉士養成事業
3. コミュニケーション支援事業
4. 精神保健ボランティア養成事業

次の文を読み 53～55 の問いに答えよ。

A市では肺がん検診の結果、肺癌と判明する事例が近年著しく増加していることから、統計的に要因分析することとした。A市には10年前までアスベストの工場があった。この地域ではがん登録事業を行っていない。隣接するB市とC町は、生活環境や住民の年齢構成がA市と類似している。

53 A市の肺癌の状況を、B市およびC町と比較する際に、国や県が実施して結果を公表している調査結果を利用することにした。

活用できる指標はどれか。

1. 肺癌有病率
2. 肺癌罹患率
3. 肺癌死亡率
4. 肺癌検診受診率

54 検証の結果、B市とC町よりも、A市における肺癌の増加傾向が顕著であることが分かった。保健師は肺癌罹患に対するアスベスト工場の影響を調べたいと考えた。

疫学調査法で最も適切なのはどれか。

1. 横断研究
2. 介入研究
3. コホート研究
4. 症例対照研究

55 調査の結果、肺癌罹患とアスベスト工場との関連は認められなかった。

要因分析の観点から次に行うことで有用なのはどれか。

1. 生活習慣との関連について分析する。
2. 年齢調整した指標を用いて3市町を比較する。
3. 肺癌患者のがんの家族歴について分析する。
4. 年次ごとに肺癌患者数をプロットして回帰係数を求める。

◎ 指示があるまで開かないこと。

(平成 24 年 2 月 17 日 13 時 55 分 ~ 15 時 00 分)

注 意 事 項

1. 試験問題の数は 50 問で解答時間は正味 1 時間 5 分である。
2. 解答方法は次のとおりである。

各問題には 1 から 4 までの 4 つの選択肢、もしくは 1 から 5 までの 5 つの選択肢があるので、そのうち質問に適した選択肢を(例 1)、(例 2)では 1 つ、(例 3)では 2 つ選び答案用紙に記入すること。

なお、(例 1)、(例 2)の質問には 2 つ以上解答した場合は誤りとする。(例 3)の質問には 1 つ又は 3 つ以上解答した場合は誤りとする。

(例 1)

101 保健師助産師看護師法で、保健師を定義しているのはどれか。

1. 第 1 条
2. 第 2 条
3. 第 3 条
4. 第 4 条

正解は「2」であるから答案用紙の②をマークすればよい。

答案用紙①の場合、

101	①	②	③	④
		↓		
101	①	●	③	④

答案用紙②の場合、

101	101
①	①
②	●
③	→ ③
④	④

(例 2)

102 保健師国家試験の受験資格が規定されているのはどれか。

1. 医療法
2. 学校教育法
3. 地域保健法
4. 保健師助産師看護師法
5. 看護師等の人材確保の促進に関する法律

正解は「4」であるから答案用紙の④をマークすればよい。

答案用紙①の場合、					答案用紙②の場合、					
102	①	②	③	④	⑤	102	102			
			↓			①	①			
102	①	②	③	●	⑤	②	②			
						③	→ ③			
						④	●			
						⑤	⑤			

(例 3)

103 保健師籍に登録されるのはどれか。2つ選べ。

1. 生年月日
2. 受験年月日
3. 卒業年月日
4. 就業年月日
5. 登録年月日

正解は「1」と「5」であるから答案用紙の①と⑤をマークすればよい。

答案用紙①の場合、					答案用紙②の場合、					
103	①	②	③	④	⑤	103	103			
			↓			①	●			
103	●	②	③	④	●	②	②			
						③	→ ③			
						④	④			
						⑤	●			

1 国際連合児童基金(UNICEF)の説明で正しいのはどれか。

1. 児童のための教育支援が主な活動である。
2. 活動資金は国際連合から拠出されている。
3. 昭和40年代には日本も被援助国であった。
4. 「児童の権利に関する条約」の普及活動を行っている。

2 3歳の幼児。3歳児健康診査で6本のう歯を指摘された。最近二語文を話し始めた。母親に児の食事内容を聞くと、あいまいな返事で、児はいつも正午ころまで寝ていると言う。保健師は歯科相談と発達相談を勧めたが、母親は拒否した。

保健師の対応で最も適切なのはどれか。

1. 児童相談所に通告する。
2. 数日以内に家庭訪問を行う。
3. 母子保健推進員に家庭訪問を依頼する。
4. 再度、母親に電話で発達相談を勧める。

3 日本において30年前と比べて現在の数値が増加しているのはどれか。

1. 総人口
2. 合計特殊出生率
3. 人口性比(男/女)
4. 生産年齢人口割合

4 低出生体重児の初回の家庭訪問で、児の母親が「夫が会社から解雇され、経済的に生活が苦しい。子どもが泣くとイライラしてしまう」と語った。部屋の中には使用済みの紙オムツが複数放置されたままであった。保健師はこの日、母親の話を傾聴し、次週に再訪問することを約束した。

保健師の訪問記録に客観的情報として記載するのはどれか。

1. 母親は「子どもが泣くとイライラする」と話した。
2. 室内には使用済みの紙オムツが複数あった。
3. 虐待が生じる可能性がある。
4. 次週に再訪問する。

5 ヘルス・ビリーフ・モデルの構成要素はどれか。

1. 代理体験
2. 主観的規範
3. 疾病の重大さの自覚
4. セルフモニタリング

6 定期の予防接種について正しいのはどれか。

1. BCGは生後6か月未満に接種する。
2. 日本脳炎の第2期は15～17歳に行う。
3. 麻疹・風疹は第1期のみの接種である。
4. ジフテリア・百日咳・破傷風混合ワクチンは第1期に2回行う。

7 保健センターの窓口で「最近、うちのおばあさんは食事をしたことを忘れて、『さっき食べたでしょう』と言うと怒りだす」と家族から相談があった。保健師は、医療機関の受診を勧めるとともに、保健指導を行うこととした。

指導内容として適切なのはどれか。

1. 計算問題をさせると良い。
2. 新しい環境に連れ出すと良い。
3. 思い違いはきちんと訂正すると良い。
4. 自尊心を傷つけないようにすると良い。

8 障害者への市保健師の支援で適切なのはどれか。

1. 障害者の要望はすべて取り入れる。
2. 同じ障害を持つ人同士の話し合いの場をつくる。
3. 障害者が受けるサービスの内容は保健師が決定する。
4. 市の障害者福祉計画に特定の障害者団体の意見を反映させる。

9 難病相談・支援センターについて正しいのはどれか。

1. 保健所が運営する。
2. 患者会の情報を提供する。
3. 介護保険の情報は扱わない。
4. 専門医療機関の情報提供は行わない。

10 近年の日本における結核の状況と対策について正しいのはどれか。

1. 先進国の中では罹患率は低い。
2. 死因別死亡者数上位 10 位以内である。
3. 罹患率は平成 12 年以降減少し続けている。
4. 新規登録患者は高齢者よりも若年者が多い。

11 40 歳の女性。第 1 子の 4 か月児健康診査に来所した。専業主婦である。女性は「気分転換や友人をつくるために外出したくても、子育てに忙しくて買い物以外は出かけられない。身近に育児の相談者がいない」と話した。市保健師は同様に高齢出産した母親が孤立していないかを確認するために情報収集をすることとした。

情報収集の対象者で優先度が高いのはどれか。

1. 母子保健推進員
2. 児童館の児童福祉司
3. 育児グループのリーダー
4. 子育て支援センターの保育士

12 町では、骨密度測定の結果報告会に併せて、骨粗鬆症予防教室を町の保健センターにおいて開催することにした。企画内容を表に示す。

内 容	使用する教育媒体	講師・担当者
1. 講義「骨粗鬆症とは」	パンフレット	保健所長
2. 講義「検診結果票の見方」	検診結果票	町保健師
3. 講義「骨粗鬆症を予防する生活」	パンフレット	町保健師 町管理栄養士
4. 個別健康相談(希望者)	待合上映用 DVD	町保健師

この健康教室の実施に際し、計上すべき予算として適切なのはどれか。

1. 講師謝金
2. 会場借り上げ料
3. パンフレット代
4. DVD プレーヤー購入費

13 育児学級に参加する父親が年々増えていることから、市保健師は父親の育児参加の促進を目的とした自主グループづくりについて検討することとした。

育児学級に参加した父親への市保健師の最初の働きかけで適切なのはどれか。

1. 参加した父親の名簿を配付する。
2. 父親の1人にリーダーを依頼する。
3. 自主グループを作ることについて意見を聞く。
4. 男性を対象とした市の健康づくり教室への参加を呼びかける。

14 市保健センターでは、高次脳機能障害者の家族会と協働して、当事者同士の交流や地域参加を目的とした事業を始めることになった。関係機関とのパートナーシップを基盤にした活動を目指し、当事者や関係者による会議を開催し事業を推進することとした。

第1回の会議の内容で適切なのはどれか。

1. 近隣市町の活動事例の紹介
2. 市民活動の助成金制度の紹介
3. 各関係機関への予算配分の検討
4. 市保健センターが行っている保健事業全般の実績報告

15 感染症の予防及び感染症の患者に対する医療に関する法律〈感染症法〉において、2類感染症とされているのはどれか。

1. 結核
2. 後天性免疫不全症候群
3. 腸管出血性大腸菌感染症
4. H5N1型を除く鳥インフルエンザ

16 児童相談所について正しいのはどれか。

1. 市町村が設置する。
2. 所長は児童福祉司に限る。
3. 福祉事務所の管理下にある。
4. 児童養護施設入所の措置を行う。

17 健康増進計画のプロセス評価を示す項目で適切なのはどれか。

1. 糖尿病の罹患率
2. 保健事業の参加者数
3. 生活習慣が改善した者の割合
4. 健康に関する知識が向上した者の割合

18 有病率を低下させる要因はどれか。

1. 罹患率が高くなる。
2. 平均有病期間が長くなる。
3. 観察集団から健康な人が流出する。
4. 重症化して短期間に死亡する人が増える。

19 脳卒中発症に対する喫煙の影響を調べるために、コホート研究を行った。10年間の追跡期間に、各対象者について、発症日または転出等によって追跡から脱落した日を特定することができた。

相対危険を計算する場合に最も適しているのはどれか。

1. オッズ比
2. 有病率比
3. 罹患率比
4. 累積罹患率比

20 ある集団に対してスクリーニング検査と確定診断とを同時に実施した結果を表に示す。

(人)

		確定診断による判定		計
		疾患あり	疾患なし	
スクリーニング検査結果	陽性	100	100	200
	陰性	5	795	800
計		105	895	1,000

特異度はどれか。

1. 50.0%
2. 62.5%
3. 88.8%
4. 95.2%

21 感染経路とその拡大防止策の組合せで正しいのはどれか。

1. 水系感染 ——— 河川の消毒
2. 空気感染 ——— 換気の励行
3. 接触感染 ——— マスクの着用
4. 垂直感染 ——— 妊婦へのワクチン接種

22 男性の特定健康診査受診者について定期的運動の有無と腹囲との関連を分析し、t検定を行った結果を表に示す。

	運動あり群	運動なし群	P 値
腹囲平均	81.6 cm	83.3 cm	0.024

この結果で正しいのはどれか。

1. 運動あり群の方が腹囲が2.4%小さい。
2. 運動あり群の方が腹囲が小さくなる確率は2.4%である。
3. 両群で腹囲に差がないのに、偶然これだけの差が出る確率が2.4%である。
4. 運動あり群のうち運動なし群の平均よりも腹囲が大きいのは2.4%である。

23 一時点における横断的な全国調査によって求められている保健統計値はどれか。

1. 朝食欠食率
2. 合計特殊出生率
3. インフルエンザ患者発生数
4. 病原性大腸菌による死者数

24 保健師のケアマネジメント能力の育成方法として最も適切なのはどれか。

1. 学会での研究発表の実施
2. カウンセリング研修への参加
3. 関係機関との定期的な事例検討会の実施
4. キャリア開発に関する上司との定期面接
5. 訪問記録の記載方法に関する勉強会の実施

25 50歳の男性。脊髄小脳変性症。妻との2人暮らし。子どもはいない。男性は立ち上がりや歩行が1人ではできず、更衣や排泄にも介助が必要であるため、訪問看護と訪問介護とを利用している。男性の主な介護者であった妻が、乳癌を発病して入院することとなったため、保健所保健師に相談があった。

保健師が男性に活用を勧める事業として適切なのはどれか。

1. 夜間対応型訪問介護事業
2. 難病患者認定適正化事業
3. 難病患者等短期入院事業
4. 重症難病患者入院施設確保事業
5. 神経難病患者在宅医療支援事業

26 国民体力の向上と国民福祉の増進を図る目的で、昭和13年(1938年)に が設置された。

に入るのはどれか。

1. 保健所
2. 厚生省
3. 厚生労働省
4. 労働基準監督署
5. 市町村保健センター

27 平成 20 年における日本の糖尿病に関する調査結果で正しいのはどれか。

1. 40 歳代が受療率のピークである。
2. 総患者数は男性よりも女性が多い。
3. 死因別死亡者数上位 5 位以内である。
4. 「糖尿病を強く疑う人」は 1,200 万人である。
5. 人工透析導入の原因疾患では糖尿病腎症が第 1 位である。

28 日本の人口動態統計で正しいのはどれか。

1. 海外在住の日本人は含まない。
2. 死因は ICD-10 に基づき分類する。
3. 出生・死亡・死産の 3 種類である。
4. 都道府県の保健衛生部門が集計製表を行う。
5. 明治 32 年(1899 年)以降の毎年のデータがある。

29 地域保健法に関する文章を示す。

平成 3 年に地域保健法が制定され、市町村保健センターが法的に位置付けられた。これに伴い^①老人保健法は廃止され、身近な保健福祉サービスの実施主体は^②市町村となった。地域保健法制定時と比較して平成 20 年の保健師数は、市^③町村は^④増加、保健所は^⑤増加している。

正しいのはどれか。2 つ選べ。

1. ①
2. ②
3. ③
4. ④
5. ⑤

30 保健指導の方法で、集団での指導が適切なのはどれか。2つ選べ。

1. 母親への第1子の離乳食指導
2. 結核患者への服薬継続の指導
3. 郷土料理を活かした食生活改善指導
4. 特定健康診査結果の要医療者への受診指導
5. HIV陽性者への性感染予防についての指導

31 禁煙指導において、対象者の行動変容のステージと指導内容の組合せで正しいのはどれか。2つ選べ。

1. 無関心期 ———— 自分の喫煙と結び付いている行動様式を考えるよう促す。
2. 関心期 ———— 禁煙宣言書を作成するよう促す。
3. 準備期 ———— ニコチン代替療法の情報を提供する。
4. 実行期 ———— 禁煙できたときの自分への褒美を考えるよう助言する。
5. 継続期 ———— 喫煙の害を書き出すよう促す。

32 A地区は、地区内に大規模集合住宅が開発されてから25年が経過し、65歳以上の高齢者割合は29.4%である。民生委員から「高齢者が閉じこもりがちで心配」と保健師に相談があった。

A地区の高齢者の閉じこもり予防に向けた地区診断に必要な情報はどれか。2つ選べ。

1. 標準化死亡比の推移
2. 生活機能評価の結果
3. 高齢者の社会参加状況
4. 地区の救急搬送件数の推移
5. 要介護認定時の疾患別割合

33 学校環境衛生基準によって基準値が定められているのはどれか。2つ選べ。

1. 給食調理場における湿度
2. 体育館における実効輻射温度
3. 校庭におけるスギ花粉飛散量
4. コンピュータ教室における机上の照度
5. 教室における空気中の揮発性有機化合物量

34 事業場が行うメンタルヘルス対策で「労働者の心の健康の保持増進のための指針」に記載されている「ラインによるケア」に該当するのはどれか。2つ選べ。

1. 労働者の労働時間管理
2. 産業医のメンタルヘルス相談
3. 全従業員対象のメンタルヘルス講演会
4. 労働者の自発的な相談への上司の対応
5. メンタルヘルス対策支援センターのサービスの活用

35 マグニチュード7.6の地震発生から2か月後、保健所保健師は避難所の巡回相談において、夜間の不眠と昼間の意欲低下とが続いている小学4年生とその母親に面談することになった。面談時、児は無表情で、ほとんど視線を合わせず、保健師が地震が起きたときのことを聞いても生返事を繰り返し、母親は不安そうな様子であった。児は、不眠が強い日に飲むようにと巡回診療時に精神安定薬を処方されたが、あまり服用していないという。

この時点での保健師の対応で、適切なのはどれか。2つ選べ。

1. 怖い夢を繰り返すかを見に尋ねる。
2. 児に毎晩薬を服用させるよう母親に伝える。
3. 児の体温を測りながら、身体の症状について児に尋ねる。
4. 災害時の体験について、時間をかけて児に詳しく尋ねる。
5. 児の症状は一過性であり自然によくなると母親に伝える。

次の文を読み 36～38 の問いに答えよ。

8月1日(金)に病院の医師から保健所へ、腸管出血性大腸菌感染症の患者5人の届出があった。患者は保育所の5歳児クラスの児1人、3歳児クラスの児3人および3歳児クラス担当の保育士1人であり、腹痛と下痢の症状がみられた。保育所では施設内調理による集団給食を提供しており、0歳児のみが別メニューである。保健所が保育所の所長から情報収集したところ、腹痛、下痢および発熱のために休んでいる児が数人いるという。児と職員(総数102人)の出席・出勤状況を表に示す。

(人)

	7/25(金)	7/28(月)	7/29(火)	7/30(水)	7/31(木)
児出席・職員出勤	99 (21)	101 (21)	101 (21)	96 (0)	94 (0)
児欠席・職員欠勤	3	1	1	6	8

* ()は児出席者・職員出勤者のうち、遠足で給食を食べていない者の再掲である。

36 保健所で検便を実施することとした。

検便の対象者として適切なのはどれか。

1. 患者の同居家族
2. 有症状の児とその同居家族
3. 全児および全職員とその同居家族
4. 3歳児クラスと5歳児クラスの全児とその同居家族
5. 全職員とその同居家族

37 患者5人は自宅療養しており、保健所保健師は8月1日(金)に家庭訪問をすることにした。

患児の家族への保健指導で適切なのはどれか。2つ選べ。

1. 「下痢が続く間は、水分をとらないでください」
2. 「お子さんは浴槽に入れず、シャワーにしてください」
3. 「便が付いたお子さんの下着は、素手で洗って構いません」
4. 「いつも利用している水道の水は、そのまま飲んでも大丈夫です」
5. 「お子さんの症状がなくなった後は、他の人にうつる可能性はありません」

38 8月4日(月)までに新たに20人の患者の届出があり、発症者は合計25人となった。欠席者の症状と症状出現時期との関係から、7月30日(水)よりも前に腸管出血性大腸菌に曝露した可能性が考えられた。発症者25人の給食の喫食の有無を表に示す。

(人)

	7/25(金)	7/28(月)	7/29(火)
給食を食べた	13	23	18
給食を食べない	12	2	7

正しいのはどれか。

1. 3日間の中では7月25日の給食による発症のリスクが高い。
2. 3日間の中では7月28日の給食による発症のリスクが高い。
3. 3日間の中では7月29日の給食による発症のリスクが高い。
4. 給食による発症のリスクは3日間とも同じである。

次の文を読み 39～41 の問いに答えよ。

人口 8 万人の市。生活実態調査結果では、BMI 25 以上の者の割合が 40～60 歳で男女共に全国平均よりも高かった。また 7 割の者が運動不足を感じており、運動習慣のある者の割合は、全国よりも低かった。小中学生の健康診断結果でも肥満傾向にある者の割合は全国よりも高く、運動が嫌いな者は、小学校低学年で 10%、小学校高学年で 15%、中学生で 20% であった。

39 この健康課題への対策を検討するために、重点地区を定めてモデル事業を行うこととした。

重点地区を選定するための情報で優先度が高いのはどれか。

1. 特定健康診査の地区別受診率
2. BMI 25 以上の成人の地区別割合
3. 運動不足を感じている者の地区別割合
4. 運動が嫌いと回答した小中学生の BMI の分布

40 重点地区では子どもと大人の肥満改善モデル事業の 1 つとして、新たに年 4 回のウォーキング大会を実施することとした。

協力を依頼する関係機関として優先度が高いのはどれか。

1. 学校長会
2. 児童相談所
3. 老人クラブ連合会
4. 地域産業保健センター

41 重点地区のモデル事業が運動習慣の獲得に成果があると認め、全地区で実施したいと考えた。

次年度の予算要求で事業の必要性を説明するとき、関係する中長期計画はどれか。2つ選べ。

1. 市総合計画
2. 地域福祉計画
3. 健康増進計画
4. 介護保険事業計画
5. 次世代育成支援行動計画

次の文を読み 42～44 の問いに答えよ。

40 歳の男性。電気機器製造会社に勤務している。会社は東南アジア A 国の首都郊外に工場開設予定であり、男性は 3 年間の予定で赴任する候補者となっている。赴任する場合には妻と 2 歳の子を帯同する予定である。A 国の医療水準は東南アジアの中でも高い。現地会社の産業医は、工場から車で 30 分ほど離れた病院の A 国人の内科医である。

42 海外赴任する社員と家族との健康診断に関して正しいのはどれか。

1. 2 歳の子は赴任前に受ける必要はない。
2. 赴任前の健康診断の結果で、現地の産業医が赴任可能かを判断する。
3. 赴任前の健康診断では、半年以内に受けた定期健康診断の項目を省略できる。
4. 海外赴任中は半年に 1 回以上受診する。

43 男性から、会社の保健師に「子どもに肝炎の予防接種をした方がよいか、相談にのって欲しい」という電話があった。出発は 2 か月後である。予防接種の費用は会社が負担する。

保健師の説明で適切なのはどれか。

1. 「肝炎は東南アジアではまれです」
2. 「子どもは A 型肝炎の感染リスクが低いです」
3. 「日本で B 型肝炎の予防接種を受けましょう」
4. 「C 型肝炎のワクチンもあります」

44 家族でA国に赴任して2年後、男性の妻から会社の保健師に「1か月前から変な咳が続くのでこちらの診療所を受診したら、胸のエックス線検査や血液検査で私は結核だと言われました。どうしたらよいでしょうか」と電話相談があった。男性と子の健康状態は良好であるという。

保健師の対応として適切なのはどれか。2つ選べ。

1. BCG接種を行うよう勧める。
2. 直ちに男性を出勤停止とする。
3. 妻に喀痰塗抹検査の結果を確認する。
4. 現地の産業医に相談するように勧める。
5. 妻と子は直ちに帰国するように指示する。

次の文を読み 45～47 の問いに答えよ。

人口2万人の町。近年、高齢者の自殺の増加が地域の問題となっている。町ではA地区(人口3,000人)を対象に自殺予防対策モデル事業を展開することとした。A地区は5年前から老人クラブの活動が休止している。

45 一次予防対策として適切なのはどれか。

1. うつ病患者の家族会の開催
2. 高齢者の交流サロンの開催
3. 保健所での精神保健相談の充実
4. 自殺未遂者へのフォローアップ体制の構築

46 高齢者のうつ状態の実態調査事業を計画した。保健師が、A地区のすべての高齢者を戸別訪問して調査協力を依頼し、うつの症状に関する質問票を配付・回収することとした。A地区内の自治会長を集めた説明会で、ある自治会長から「私の知人の高齢者はうつ病の治療中だが、こうした調査を受けると病状に影響しないだろうか」という質問があった。

保健師の対応で適切なのはどれか。

1. 地区住民対象の説明会を開く。
2. うつ病の高齢者は調査対象から除く。
3. 質問をした自治会の高齢者は調査しない。
4. うつ病の高齢者には、精神科医の立会いの下で調査を実施する。

47 実態調査の結果、独居高齢者 220 人のうち 20 % がうつ状態を疑われる者に該当した。

これらの者への対策として最も適切なのはどれか。

1. 年間自殺者数を町の広報誌に掲載する。
2. 保健師による継続的な訪問指導を実施する。
3. 自治会の行事でうつ病について啓発活動をする。
4. 近隣市町村の精神科医療機関のマップを全世帯に配布する。

次の文を読み 48～50 の問いに答えよ。

人口 5 万人の市。市は 4 市町村が合併し 87 地区がある。保健師は市保健センターで今年度から成人保健対策の責任者となった。

48 市の過去 4 年間の特定健康診査の結果を表に示す。

(%)

	H 20 年度	H 21 年度	H 22 年度	H 23 年度
高 血 圧	44.0	40.5	40.2	36.4
脂 質 異 常	37.9	37.8	40.3	42.0
高 血 糖	18.1	20.0	32.8	35.2
喫 煙 あ り	30.4	33.5	28.0	26.0
ストレスあり	47.0	45.8	40.3	37.3

一次予防プログラムとして優先度が高いのはどれか。

1. 減塩料理教室
2. ウォーキング教室
3. レストランの分煙事業
4. ストレスコントロール教室

49 保健師は、生活習慣病予防プログラムを検討する中で、住民の健康行動や知識などについて詳しく確認する必要性を感じた。次年度の企画のためにアンケート調査を実施することにした。

調査方法として最も適切なのはどれか。

1. デルファイ法
2. クラスタ抽出法
3. インターセプト法
4. スノーボール・サンプリング法

50 住民の健康行動や知識などについて詳しく確認する調査は5年前にも実施していた。そこで今回の調査結果と比較を行うことにした。メタボリックシンドロームについての理解度の結果を表に示す。

(人)

	よく理解している	少し理解している	あまり理解していない	まったく理解していない
5年前	30	60	190	20
今回	60	130	90	20

このデータを統計分析するのに適切な分析方法はどれか。

1. t検定
2. 単回帰分析
3. 一元配置分散分析
4. マンホイットニーU検定

報道関係者 各位

平成24年3月26日

【照会先】

医政局看護課

看護教育指導官 横田 陽子 (内線2595)

試験免許係長 西村 緑 (内線2594)

(代表番号) 03(5253)1111

第 98 回保健師、第 95 回助産師及び第 101 回看護師 国家試験の合格発表

厚生労働省は、本日平成 24 年2月に実施した標記国家試験の合格者を発表しました。今回の当該国家試験の合格者数等は次のとおりです。

記

	(出願者数)	(受験者数)	(合格者数)	(合格率)
第 98 回保健師	15,964 人	15,758 人	13,555 人	86.0%
(うち新卒者)	14,656 人	14,528 人	12,963 人	89.2%
第 95 回助産師	2,160 人	2,132 人	2,026 人	95.0%
(うち新卒者)	2,089 人	2,064 人	1,982 人	96.0%
第 101 回看護師	54,270 人	53,702 人	48,400 人	90.1%
(うち新卒者)	49,749 人	49,336 人	46,928 人	95.1%

平成24年3月26日

【照会先】

医政局看護課

看護教育指導官 横田 陽子 (内線2595)

試験免許係長 西村 緑 (内線2594)

(代表番号) 03(5253)1111

第98回保健師、第95回助産師及び第101回看護師国家試験の合格基準

第98回保健師国家試験

一般問題を1問1点(74点満点)、状況設定問題を1問2点(60点満点)とし、次の合格基準を満たす者を合格とする。

総得点 81点以上/134点

第95回助産師国家試験

一般問題を1問1点(75点満点)、状況設定問題を1問2点(60点満点)とし、次の合格基準を満たす者を合格とする。

総得点 81点以上/135点

第101回看護師国家試験

必修問題及び一般問題を1問1点、状況設定問題を1問2点とし、次の①～②の全てを満たす者を合格とする。

① 必修問題 40点以上/50点

② 一般問題 157点以上/247点
状況設定問題

平成24年3月26日

【照会先】

医政局看護課

看護教育指導官 横田 陽子 (内線2595)

試験免許係長 西村 緑 (内線2594)

(代表番号) 03(5253)1111

第98回保健師国家試験における採点除外等の扱いをした問題について

午後 第 25 問

25 50歳の男性。脊髄小脳変性症。妻との2人暮らし。子どもはいない。男性は立ち上がりや歩行が1人ではできず、更衣や排泄にも介助が必要であるため、訪問看護と訪問介護とを利用している。男性の主な介護者であった妻が、乳癌を発病して入院することとなったため、保健所保健師に相談があった。

保健師が男性に活用を勧める事業として適切なのはどれか。

1. 夜間対応型訪問介護事業
2. 難病患者認定適正化事業
3. 難病患者等短期入院事業
4. 重症難病患者入院施設確保事業
5. 神経難病患者在宅医療支援事業

採点上の取扱い

採点対象から除外する。

理 由

選択肢に正解がないため。

平成24年3月26日

【照会先】

医政局看護課

看護教育指導官 横田 陽子 (内線2595)

試験免許係長 西村 緑 (内線2594)

(代表番号) 03(5253)1111

第98回保健師国家試験合格状況

	出願者数(人)	受験者数(人)	合格者数(人)	合格率(%)
全 体	15,964	15,758	13,555	86.0
新 卒 者	14,656	14,528	12,963	89.2

区 分	学校数	新 卒				既 卒			
		出願者数	受験者数	合格者数	合格率	出願者数	受験者数	合格者数	合格率
大学	168	13,752	13,629	12,224	89.7%	1,192	1,115	556	49.9%
短期大学専攻科	8	164	164	155	94.5%	12	11	7	63.6%
養成所	24	740	735	584	79.5%	104	104	29	27.9%
その他	—	—	—	—	—	—	—	—	—
計	200	14,656	14,528	12,963	89.2%	1,308	1,230	592	48.1%